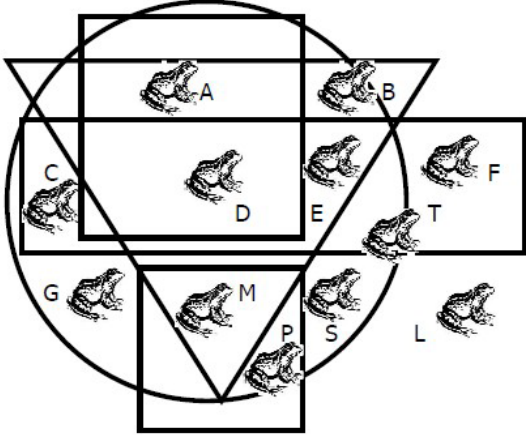






# VENDREDI

## Maternelle


MS	GS
<p>Gémock la grenouille se cache. Elle est dans un cercle. Elle est dans un carré. Elle est dans un triangle. Elle n'est pas dans un rectangle. Indique la lettre qui correspond à Gémock.</p> 	<p>Un maçon construit un mur Combien de briques comme celle-ci</p>  <p>doit-il prendre pour finir le mur?</p> 

## Cycle 2

CP	CE1
<p>A la fête de l'école, Jérémie lance 4 balles sur la cible du chat.</p>	<p>Cassandra et Alexis ont cueilli à elles deux 25 pommes. Cassandra en a cueilli 3 de plus qu'Alexis. Combien de pommes chacun a-t-il cueillies ?</p> 

	
<p>Il a fait 19 points. Quels nombres a-t-il touchés ?</p>	

### Cycle 3

CE2	CM1	CM2
<p>La montre de Mélanie retarde de 5 minutes mais elle croit qu'elle avance de 10 minutes.</p> <p>À quelle heure arrivera-t-elle au cours de danse prévu à 9 h ?</p>	<p><b>Bidons ...</b> Dans le film Une journée en enfer, Bruce Willis et Samuel Jackson doivent placer 4 kg sur une balance pour désamorcer une bombe, à proximité d'une fontaine. Mais pour cela, ils n'ont que deux bidons, un de 3 litres et un de 5 litres.</p> <p><b>Comment feront-ils pour prendre exactement 4 litres d'eau dans la fontaine ?</b></p> <div style="text-align: center;">  <p>Bidon de 5 litres    ?? 4 litres ??    Bidon de 3 litres</p> </div>	<p>Vous avez 2 bassines. La première d'une contenance de 11 litres lorsqu'elle est remplie à ras bord, et la seconde d'une contenance de 8 litres lorsqu'elle est également pleine.</p> <p>Vous devez vous rendre à la fontaine, avec vos 2 bassines vides, et revenir en vous débrouillant pour obtenir exactement <b>2 fois plus d'eau dans une bassine que dans l'autre</b> (peu importent les quantités).</p> <p>AIDE : Vous pouvez prendre et rejeter autant d'eau que vous voulez à la fontaine.</p>